

PROV I MUSIKLÄRA (Testprov)


Uppgift 1: Ange tonnamn och oktavbeteckning (t.ex. g¹ eller ettstrukna g)




Uppgift 2: Skriv intervallen uppåt från den givna tonen.




Uppgift 3: Skriv en harmonisk c#-mollskala uppåt och neråt. Använd tillfälliga förtecken.



Uppgift 4: Transponera melodin till g-moll. Notera i basklav. (fasta och tillfälliga förtecken)



Uppgift 5: Vad heter ackorden? Skriv med ackordanalys.



Uppgift 6: Analysera med funktionsanalys (t.ex. T, D7) eller steganalys (t.ex. IIm7, V7).

Uppgift 7: Skriv ett enkelt arrangemang för fyra stämmor. Melodi- och basstämma samt ackord är givna.
Låt mellanstämmorna röra sig med minsta möjliga melodiska rörelse.